

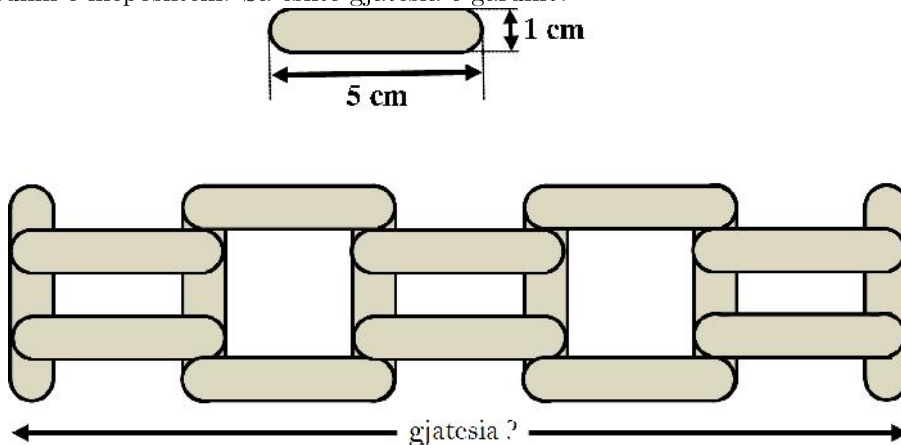


- (A) 5 (B) 8 (C) 10 (D) 12 (E) never

21. Liza ka 3 copa letrash të bardha, 2 të zeza dhe 2 gri. Ajo pret çdo letër që nuk është me ngjyrë të zezë përgjysmë. Pastaj ajo pret çdo letër që nuk është me ngjyrë të bardhë përgjysmë. Sa copa letre do të ketë ajo pas këtyre veprimeve?

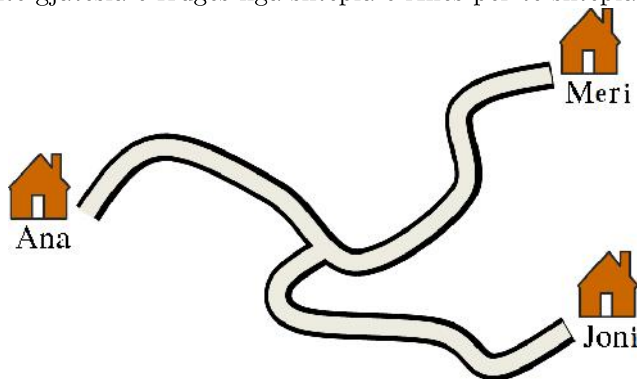
- (A) 14 (B) 16 (C) 17 (D) 18 (E) 20

22. Një nxënës ka disa shkopinj me gjatësi 5 cm dhe gjerësi 1 cm. Me këto shkopinj ai ndërton gardhin e mëposhtëm. Sa është gjatësia e gardhit?




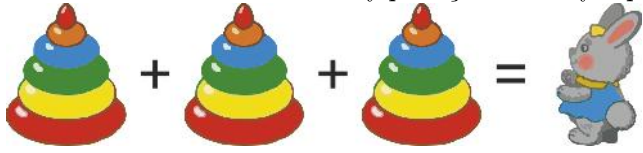
- (A) 20 cm (B) 21 cm (C) 22 cm (D) 23 cm (E) 25 cm

23. Gjatësia e rrugës nga shtëpia e Anës te shtëpia e Merit është 16 km. Gjatësia e rrugës nga shtëpia e Merit te shtëpia e Jonit është 16 km dhe kryqëzimi nga shtëpia e Merit është 9 km larg. Sa është gjatësia e rrugës nga shtëpia e Anës për te shtëpia e Jonit?

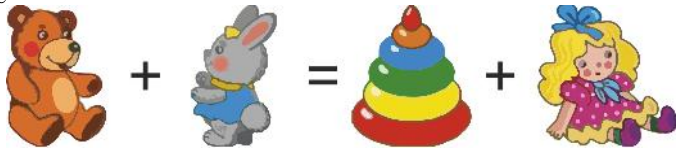


- (A) 7 km (B) 9 km (C) 11 km (D) 16 km (E) 18 km

24. Besniku bleu 4 lodra në dyqan. Çmimet e tyre plotësojnë barazimet:



dhe



Atëherë lodra më e lirë dhe më e shtrenjtë është:

