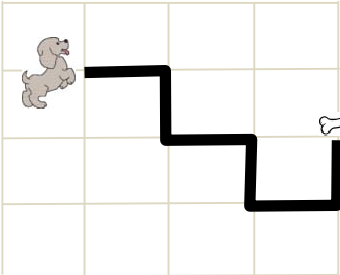
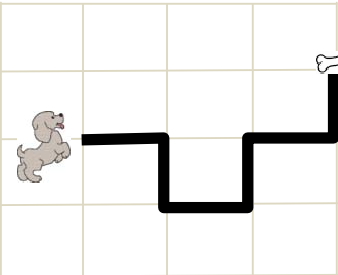
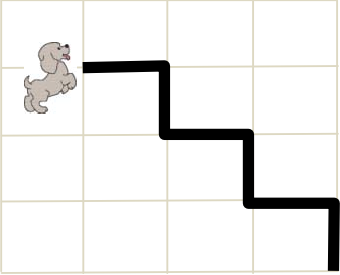
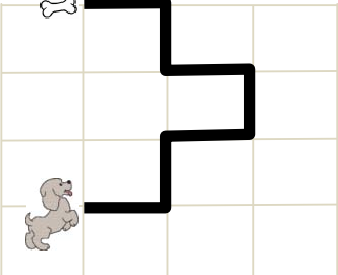


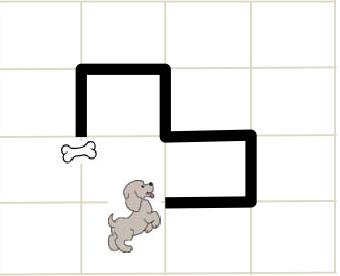
# 14. Qeni shkoi tek ushqimi i tij me anë të njëjës prej rrugëve të treguara në figurat e mëposhtme. Nëpër kryqëzime ai u kthye djathtas 3 herë dhe majtas 2 herë. Cila ishte rruga që ndoqi qeni?

(A) 


(B) 

(C) 

(D) 


(E) 

# 15. Sa herë shfaqet dora juaj e djathtë në figurë?



(A) 3                      (B) 4                      (C) 5                      (D) 6                      (E) 7

# 16. Karli ndau një litar në tri pjesë të barabarta dhe pastaj lidhi disa nyje të njëjta në to. Cila prej figurave paraqet saktë tri pjesët me nyje?

(A) 

(B) 