
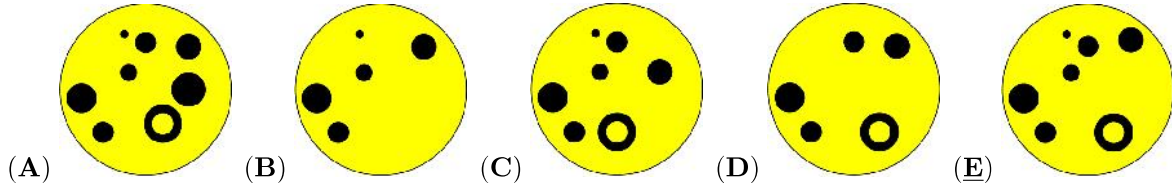


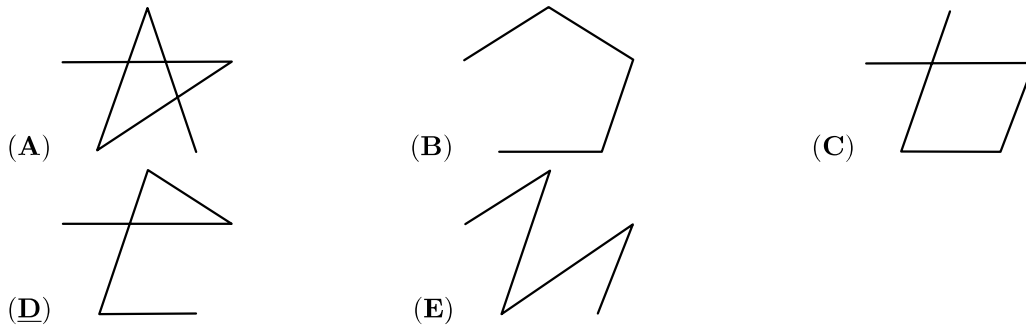

Problema me 3 pikë



1. Jepet figura . Cila figurë do të përftohet nëse këmbeni ngjyrat (e verdha bëhet e zezë dhe e zeza bëhet e bardhë) ?



2. Liza bashkon me laps me vija nusepashkët e mëposhtme sipas radhës së rritjes së numrit të pikave në krahët e tyre. Ajo nisët nga nusepashka që ka vetëm një pikë. Cila është figura që formon Liza pasi ka kryer bashkimin e nusepashkëve?

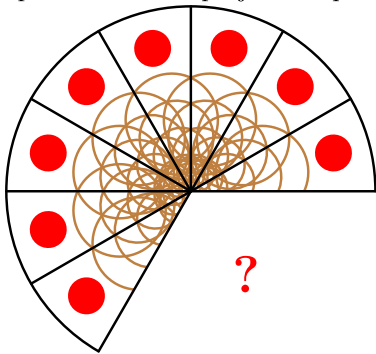


3. Maria përdor për ngjitje yje me 4 cepa si në figurë . Sa është numri më i vogël i yjeve që përdori ajo për figurën e mëposhtme?




- (A) 5 (B) 6 (C) 7 (D) 8 (E) 9

4. Një picë e plotë është ndarë në copa të barabarta. Prej saj u hoqën disa copa dhe u mor figura e mëposhtme. Sa copa janë hequr nga pica?



- (A) 1 (B) 2 (C) 3 (D) 4 (E) 5

5. Sa kangurë duhen çuar nga njëra anë e parkut në anën tjetrin me qëllim që të dyja pjesët e parkut të kenë të njëjtin numër kangurësh?



- (A) 4 (B) 5 (C) 6 (D) 8 (E) 9

6. Cila nusepashkë duhet të fluturojë që ato që mbeten të kenë sëbashku 20 pika në krahët e tyre?

