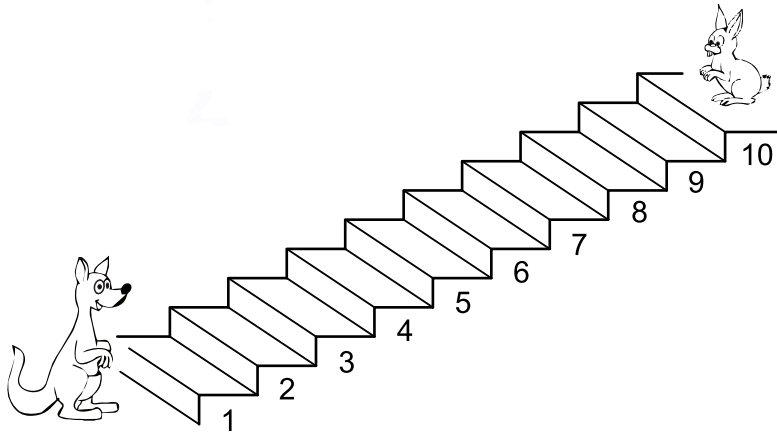


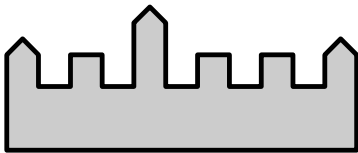
Problema me 3 pikë

# 1. Kanguri ngjit 3 shkallë ndërkohë që lepuri zbret 2 shkallë. Në cilën shkallë takohen ato?

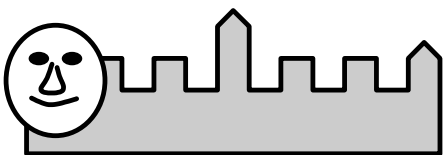
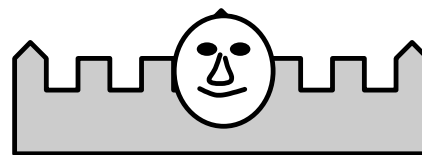
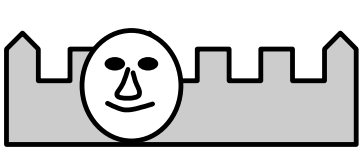
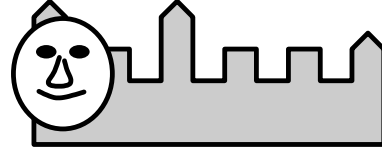
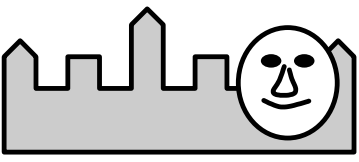


- (A) 3                      (B) 4                      (C) 5                      (D) 6                      (E) 7

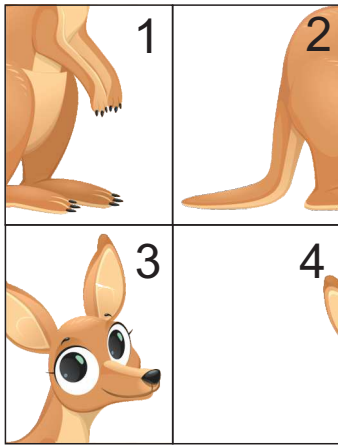
# 2. Molosa i bëri një fotografi vetes përpara kësaj kështjelle.



Cila nga fotot e mëposhtë mund të jetë fotografia e Molosës?

- (A)                       (B) 
- (C)                       (D) 
- (E) 

# 3. Nertila rregulloi 4 copat e mëposhtme për të formuar figurën e rregullt të kangurit.



Si u vendosën këto copa?

- (A) 

4	3
2	1

 (B) 

3	4
2	1

 (C) 

2	1
4	3

 (D) 

4	3
1	2

 (E) 

3	4
1	2

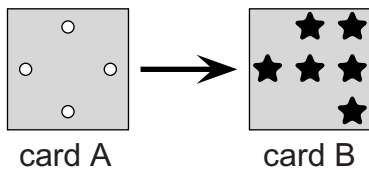
# 4. Një magjistar po nxjerr lodrat nga kapelja që mban në kokë. Ai gjithmonë i nxjerr lodrat në të njëjtën mënyrë, siç tregohet në figurë.



Modeli në figurë përsëritet çdo pesë lodra. Cilat janë dy lodrat që ai nxjerr më pas (në vazhdim)?

- (A) (B) (C)   
 (D) (E)

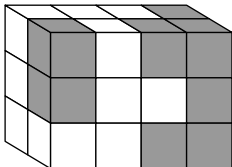
# 5. Jetoni ka dy karta me të njëjtën madhësi. Karta A ka katër vrima të shpuara në të.



Jetoni vendos kartën A direkt në krye të kartës B. Çfarë mund të shohë Jetoni?

- (A) (B) (C) (D) (E)

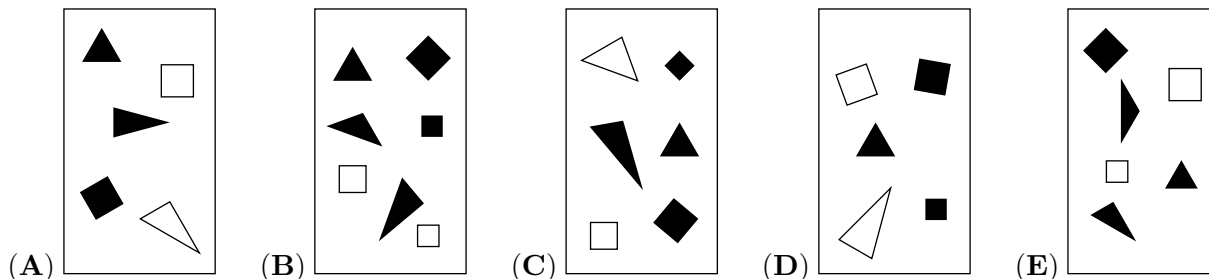
# 6. Maria formoi një objekt duke përdorur disa kube të bardha dhe 14 kube gri.




Sa nga këto kube gri nuk mund të shihen në figurë?

- (A) 1                      (B) 3                      (C) 5                      (D) 6                      (E) 8

# 7. Ana vizatojë një figurë me disa forma. Figura e saj përmban 3 trekëndësha të zinj dhe më pak se 4 katrorë. Cilën nga figurat e mëposhtme mund të ketë vizatua Ana?



# 8. Kordoni në figurë është i përbërë nga tre fije, që kanë njëra ngjyrën gri, njëra blu dhe tjetra të

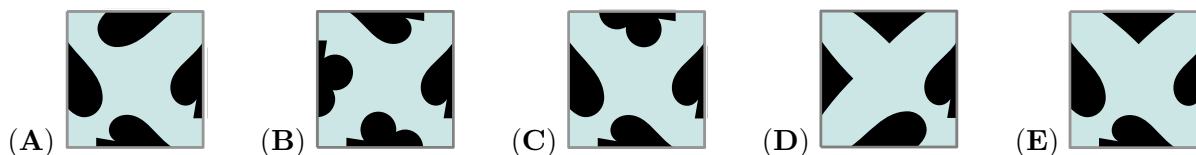



kuqe. Çfarë ngjyrash kanë tre fijet të shënuara me numra?

- (A) 1 blu, 2 gri dhe 3 e kuqe.                      (B) 1 gri, 2 e kuqe dhe 3 blu.  
 (C) 1 e kuqe, 2 blu dhe 3 gri.                      (D) 1 gri, 2 blu dhe 3 e kuqe.  
 (E) 1 blue, 2 e kuqe dhe 3 gri.

Prablema me 4 pië

# 9. Cila është pjesa që i mungon figurës?



# 10. Një fshat me 12 shtëpi ka katër rrugë të drejta dhe katër rrugë rrethore. Harta tregon 11 nga shtëpitë. Në secilën rrugë të drejtë ka 3 shtëpi. Në çdo rrugë rrethore ka gjithashtu 3 shtëpi. Ku duhet