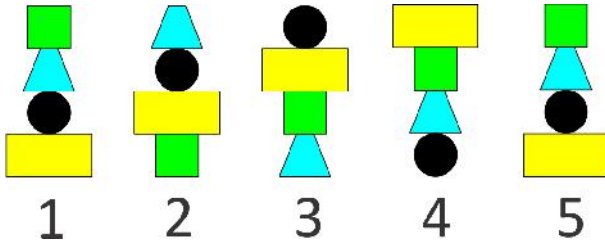
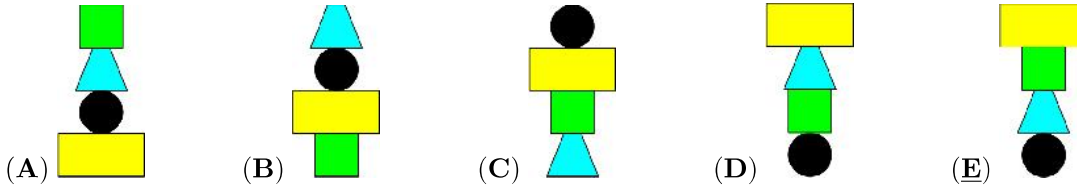


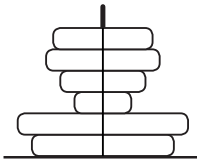
7. Emilia ndërton kulla njëra pas tjetrës, pesë të parat e tyre janë treguar më poshtë:



Cila prej figurave të mëposhtme do të merret kur Emilia të ndërtojë kullën e 16-të?



8. Toni i vogël ka formuar një lodër duke vendosur rrota prej druri njëra mbi tjetrën si në figurë.



Sa prej këtyre rrotave do të mund të shikojë ai nga sipër?

- (A) 1 (B) 2 (C) 3 (D) 4 (E) 5

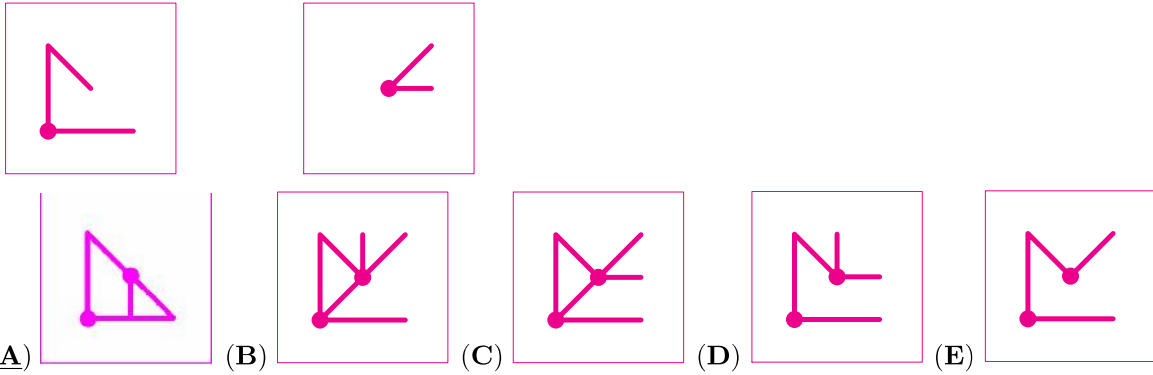
Problema me 4 pikë

9. Magjistarja Juana, ka 5 fshesa në depon e saj. Ajo i heq fshesat një e nga një pa lëvizur të tjerat. Cila është fshesa e fundit që do të largojë Juana?

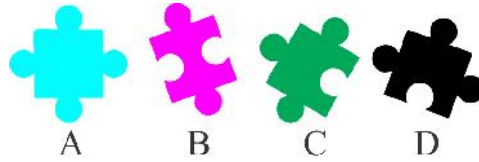
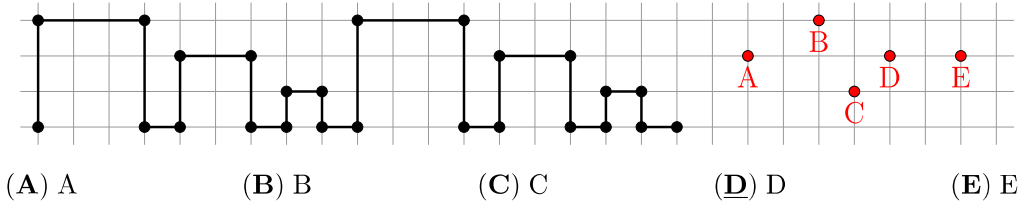


- (A) A (B) B (C) C (D) D (E) E


10. Dy katrorët e mëposhtëm të tejdukshëm janë vendosur njëri mbi tjetrin. Cila është figura që shikoni?



11. Pjetri vizatoi një model figure dy herë si në figurën më poshtë. Nëse ai e vizaton këtë model edhe njëherë, nëpër cilën pikë do të kalojë figura e ndërtuar?



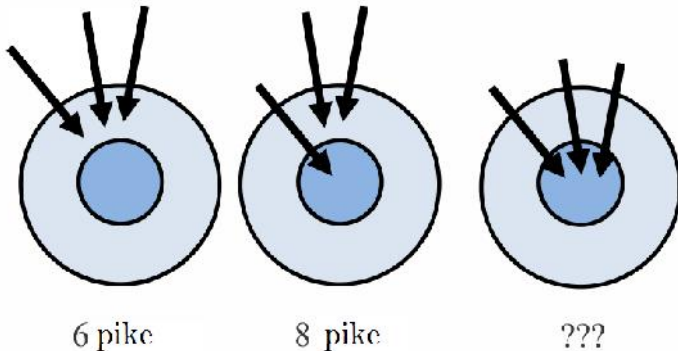
12. Luiza ka katër pjesë formuese



asaj i duhen vetëm 3 prej tyre. Cila pjesë nuk i duhet Luizës?

- (A) A (B) B (C) C (D) D (E) C or D

13. Diana gjuajti tri herë në tabelë me tri shigjeta. Herën e parë ajo fitoi 6 pikë (si në figurën në të majtë). Herën e dytë ajo i hodhi shigjetat si në figurën e mesit dhe fitoi 8 pikë. Sa pikë fitoi Diana herën e tretë, kur i ka hedhur shigjetat si në figurën në të djathtë?



- (A) 8 (B) 10 (C) 12 (D) 14 (E) 16